

Dossier 2

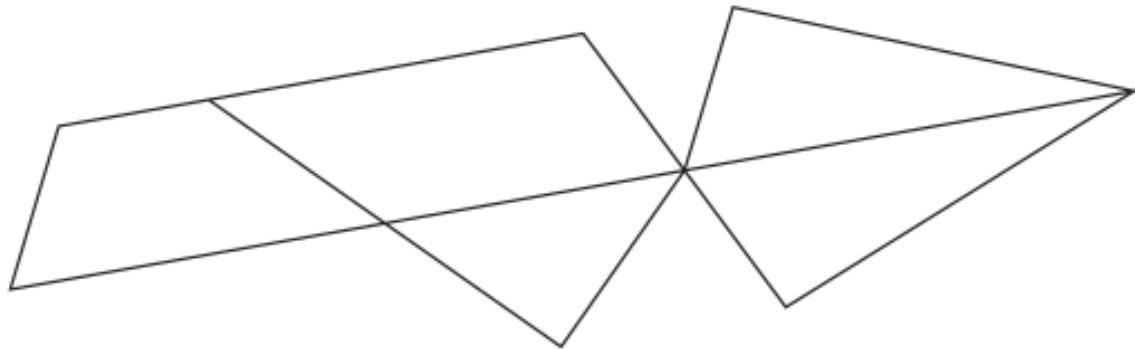
Je révise la matière de
2ème année

Grandeurs
Solides et figures

Question

1

Trace une croix dans **tous les triangles**.




1

Question

2

Trace une croix dans **tous les carrés**.



Écris le nom de la figure dessinée.

A.



est un

 3

B.



est un

 4

C.

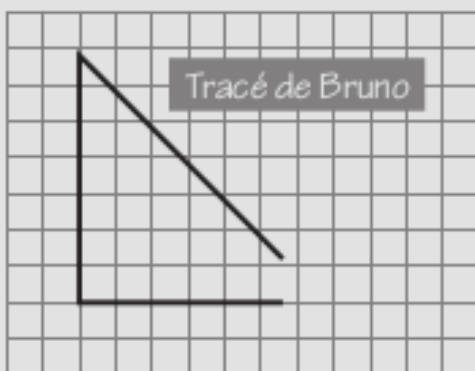


est un

 5

Observe le tracé de Bruno.

Explique pourquoi son triangle n'est pas correct.



Le triangle tracé par Bruno n'est pas correct car


.....

.....

 6

Question **5**

Trace un carré en t'aidant du quadrillage.
Utilise ta latte.



7

Question **6**

Trace un rectangle en t'aidant des pointillés.
Utilise ta latte.




8

Question

7

Trace un triangle en t'aidant des points.
Utilise ta latte.



9

Question

8

Termine la frise en t'aidant du quadrillage.
Utilise ta latte.



10

Pour chaque phrase, entoure le nom du jour qui convient.

A. Si aujourd'hui nous sommes mercredi, hier, nous étions ...

lundi	jeudi	mardi
vendredi	dimanche	samedi

B. Si aujourd'hui nous sommes mercredi, avant-hier, nous étions ...

lundi	jeudi	mardi
vendredi	dimanche	samedi

C. Si aujourd'hui nous sommes mercredi, demain, nous serons ...


lundi	jeudi	mardi
vendredi	dimanche	samedi

D. Si aujourd'hui nous sommes mercredi, après-demain, nous serons ...


lundi	jeudi	mardi
vendredi	dimanche	samedi

Les 4 horloges indiquent l'heure à laquelle Pierre, Farid, Claire et Léa se lèvent. Réponds aux questions en recopiant le prénom qui convient.

Pierre




Farid



Claire

07:00

Léa



A. Qui se lève le plus tard ?

B. Qui se lève à 7 heures et demie ?

Observe ce calendrier.

Calendrier d'un mois de février						
Lundi	Mardi	Mercredi	Jéudi	Vendredi	Samedi	Dimanche
			1	2	3	4
5	6	7	8	9	10	11
12	13	14	15	16	17	18
19	20	21	22	23	24	25
26	27	28				

Réponds à la question par **le nombre** qui convient.

A. Combien y a-t-il de mardis dans ce mois de février ?

..... mardis.

Complète les phrases par **le nom du jour** qui convient.

B. Dans ce mois de février, le 24 est un

C. Le premier jour de ce mois de février est un

D. Dans ce mois de février, le jour avant le 15 est un

Réponds à la question en indiquant **la date complète**.

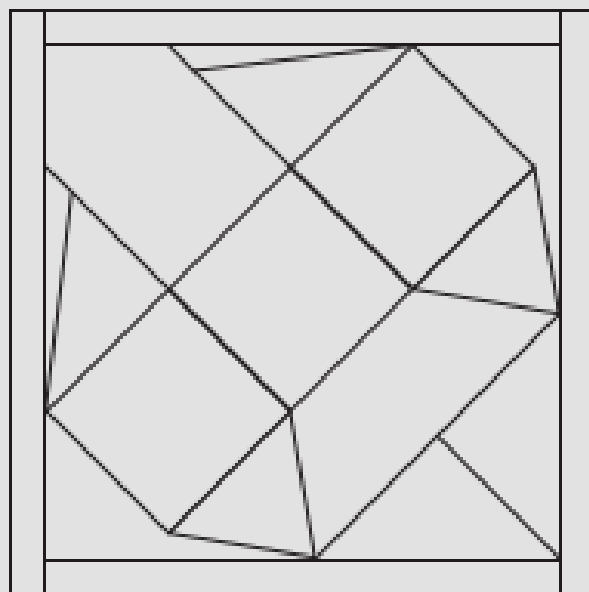
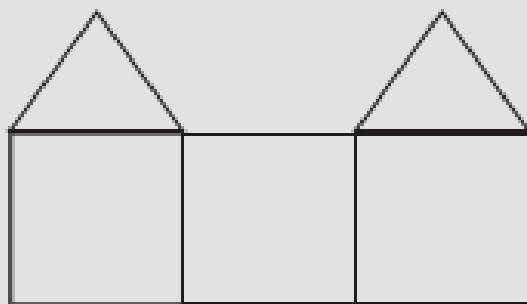
N'oublie pas le nom du jour.

E. Nous arrivons au centre de dépaysement le jeudi 8 février.
Nous y dormons 5 nuits. À quelle date rentrerons-nous à l'école ?

Le février.

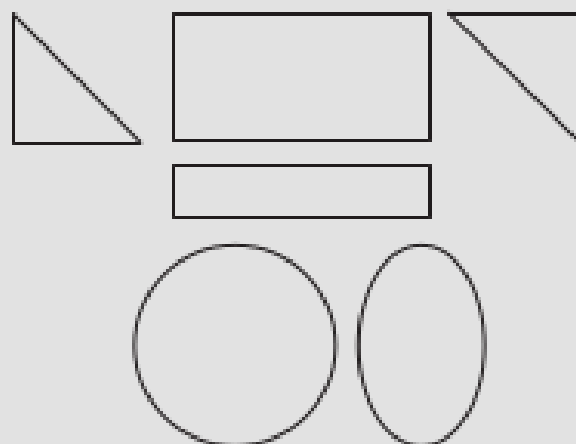

Question **17**

Colorie ce château dans le tableau ci-contre.




Question **18**

Trace une croix dans les figures nécessaires pour réaliser ce modèle noir.




Question **22**


Écris, sur les pointillés, l'heure que chaque horloge indique.



..... h



..... h



..... h